

9 клас
Тести групи Г




Завдання на встановлення відповідності.

Завдання №1			
Установіть відповідність між структурами рослин (1-6) і функціями (А-Г), які вони переважно виконують			
А)		ситовидні трубки	1) захисна
Б)		перисперм	2) транспортна
В)		серцевина стебла	3) запасуються
Г)		судини стебла	4) газообмін
Д)		продихи	
Е)		пробка	

Завдання №2

Установіть відповідність між таксонами (А-Д) і типами личинок, властивих представникам цих таксонів (1-5).

Укажите соответствие для всех 4 вариантов ответа:

А)		1)	Ракоподібні
Б)		2)	Двостулкові молюски
В)		3)	Плоскі черви
Г)		4)	Кишковопорожнинні
		5)	Поліхети